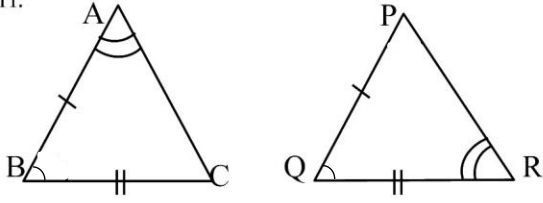


11.

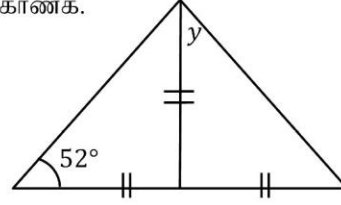


இவ்விரு முக்கோணிகளும் ஒருங்கிசையுமா? இல்லையா? எனக்கூறி ஒருங்கிசையின் நிபந்தனையைத் தருக.

12. காரணிப்படுத்துக.

$$2x^3 - 162x$$

13. 3,5,7,... என்ற கோலத்தின் பொது உறுப்பு யாது?

14. உருவை அவதானித்து y இன் பெறுமானத்தைக் காண்க.15. $4a^2b$, $6ab^3$ என்பவற்றின் பொ.ம.சி யாது?

பகுதி - II

எல்லா வினாக்களுக்கும் விடை தருக.

01.

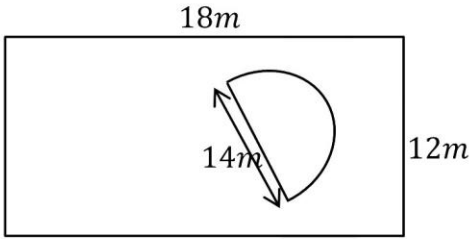
a) சுருக்குக.

$$\frac{3}{5} \text{ இன் } \left(1\frac{2}{3} - \frac{3}{4}\right)$$

b) ஒரு பாடசாலையின் கலைவிழாவில் அப் பாடசாலையின் மாணவர்களில் $\frac{1}{6}$ பங்கினர் பாடுவதிலும் $\frac{1}{4}$ பங்கினர் ஆடுவதிலும் எஞ்சியுள்ள மாணவர்களில் $\frac{6}{7}$ பங்கினர் ஒரு நாடகத்திலும் பங்கு பற்றினர். இம் மாணவர்கள் ஒவ்வொருவரும் ஒரு நிகழ்ச்சியில் மாத்திரம் பங்குபற்றினர்.

- பாடசாலையின் மொத்த மாணவர் எண்ணிக்கையின் என்ன பின்னம் நாடகத்தில் பங்கு பற்றிய மாணவர்களின் எண்ணிக்கை
- மேற்குறித்த நிகழ்ச்சிகள் எதிலும் பங்குபற்றாத மாணவர் எண்ணிக்கை 20 எனின் மொத்த மாணவர் எண்ணிக்கை யாது?
- ஆடுவதில் பங்குபற்றிய மாணவர் எத்தனை?

02.



வரிப்படத்தில் காணப்படுகின்றவாறு ஒரு செவ்வக காணித்துண்டிலே ஓர் அரைவட்டப் பூப்பாத்தி அமைக்கப்பட்டு எஞ்சியுள்ள காணிப்பகுதியில் புல் வளர்க்கப்பட்டுள்ளது.

- செவ்வக காணித்தண்டைச் சுற்றி ஒரு முட்கம்பி வேலியை அமைக்கும் போது அதற்குத் தேவையான முட்கம்பியின் இரு வரியின் நீளத்தைக் காண்க.
- அரைவட்டப் பூப்பாத்தியின் பரப்பளவு யாது?
- புல் வளர்க்கப்பட்டுள்ள காணிப் பகுதியின் பரப்பளவைக் காண்க.
- புல் வளர்ப்பதற்கான செலவு ரூ 60/= எனின் காணியில் புல் வளர்ப்பதற்கான செலவு யாது?

03. குறித்த பொருளொன்றின் உற்பத்திச் செலவு ரூ 15 000 ஆகும். உற்பத்தியாளர் 15% இலாபம் கிடைக்கக் கூடியவாறு மொத்த வியாபாரிக்கு விற்றார். மொத்த வியாபாரி 10% இலாபம் கிடைக்கக் கூடியவாறு சில்லறை வியாபாரிக்கு விற்கின்றார். சில்லறை வியாபாரி அப் பொருளுக்கு 20% இலாபம் கிடைக்கக் கூடியவாறு நுகர்வோருக்கு விற்றார்.

- மொத்த வியாபாரியின் கொள்விலையைக் காண்க.
- மொத்த வியாபாரியின் கொள்விலையைக் காண்க.
- நுகர்வோரின் கொள்விலையைக் காண்க.
- உற்பத்திச் செலவிற்கும் நுகர்வோரின் கொள்விலைக்கும் இடையே வியாபாரிகள் பெற்ற இலாபத்தைக் காண்க. இது உற்பத்திச் செலவின் என்ன சதவீதமாகும்.



A PLUS CAMPUS

அனைத்தும் ஒரே கூடத்தில்

Grade:01-13

தரம் 01 தொடக்கம் 13 வரையான அனைத்து பாடங்களும் மிக நுணுக்கமான முறையில் சிறப்பான ஆசிரியர்களால் கற்றுக்கொடுக்கப்படுகின்றன.

A/L Commerce , Arts

கற்கை நெறிகள்

- ✓ Diploma In Information Technology
- ✓ Diploma In Spoken English
- ✓ Diploma In English
- ✓ Youngers Learn English (Cambridge)
- ✓ IELTS Preparation Class
- ✓ Certificate in Makeup Artists

Our Facilities

- ✓ Learning management System (LMS)
- ✓ Modern Class Rooms
- ✓ Computer Labs
- ✓ Qualified Lecture Panel
- ✓ E-Library

மேலதிக தகவல்களுக்கு எமது இணையத்தளத்தை பார்வையிடவும்



Mallavi, Mullaitivu District, Northern Province , Sri Lanka

www.apluscampus.lk

+94 76 626 1801

