



06. பெறுமானம் காண்க.

$$\triangle = 4 \quad \bigcirc = 5 \quad \square = 7$$


(i)  $\bigcirc + \square + \triangle = \dots\dots\dots$

(ii)  $\square + \bigcirc - \triangle = \dots\dots\dots$

07. பொருட்கள் குறிக்கும் விலையை நாணத்தாள், நாணயக்குற்றிகளை வரைக.

1.  ரூபாய் 50.00

ரூபாய் .....	ரூபாய் .....	ரூபாய் .....
--------------	--------------	-----------------

2.  ரூபாய் 35.00

ரூபாய் .....	ரூபாய் .....	ரூபாய் .....
--------------	-----------------	-----------------

08. வினாக்களுக்கு விடை எழுதுக.

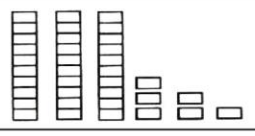
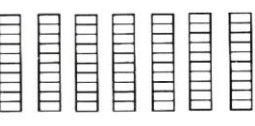
1. மாம்பழக்குவியலொன்றில் ஓரளவு பழுத்த மாம்பழங்கள் 25 உள்ளன. பழுத்த மாம்பழங்கள் 50 உள்ளன. மாம்பழக்குவியலிலுள்ள மொத்த மாம்பழங்கள் எத்தனை?

.....

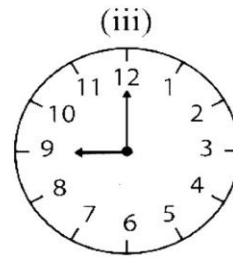
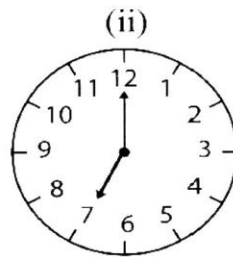
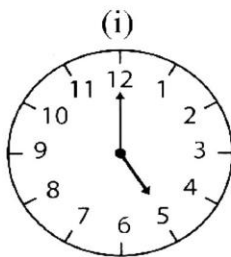
2. பையொன்றில் நீல நிறப் பேனைகள் 52 உம், சிவப்பு நிறப் பேனைகள் 38 உம் இருப்பின் பையிலுள்ள மொத்த பேனைகளின் எண்ணிக்கை யாது?

.....

09. அட்டவணையை நிரப்புக.

	பத்துக்கள்	ஒன்றுகள்	எண்
	.....	.....	.....
	.....	.....	.....

10. ஷிகாரத்தில் குறித்துக் காட்டப்படும் நேரத்தை சரியாக எழுதுக.





# A PLUS CAMPUS

## அனைத்தும் ஒரே கூடத்தில்

### Grade:01-13

தரம் 01 தொடக்கம் 13 வரையான அனைத்து பாடங்களும் மிக நுணுக்கமான முறையில் சிறப்பான ஆசிரியர்களால் கற்றுக்கொடுக்கப்படுகின்றன.

## A/L Commerce , Arts

### கற்கை நெறிகள்

- ✓ Diploma In Information Technology
- ✓ Diploma In Spoken English
- ✓ Diploma In English
- ✓ Youngers Learn English (Cambridge )
- ✓ IELTS Preparation Class
- ✓ Certificate in Makeup Artists

### Our Facilities

- ✓ Learning management System (LMS)
- ✓ Modern Class Rooms
- ✓ Computer Labs
- ✓ Qualified Lecture Panel
- ✓ E-Library

மேலதிக தகவல்களுக்கு எமது இணையத்தளத்தை பார்வையிடவும்



Mallavi, Mullaitivu District, Northern Province , Sri Lanka

[www.apluscampus.lk](http://www.apluscampus.lk)

+94 76 626 1801

