




04. அடுத்து வரும் உருவை வரைவோம்.



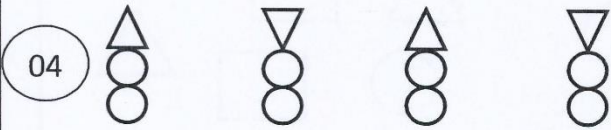
.....



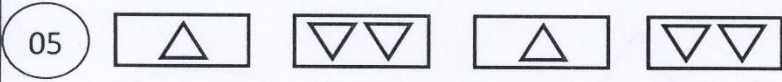
.....



.....



.....



.....

05. அடுத்து வரும் எண்ணை எழுதுக.

1) 10, 11, ....., 13

2) 2, 4, 6, .....

3) 20, 19, 18, .....

4) 10, 20, ....., 40

5) 15, 16, 17, .....

06. இலக்கத்தில் எழுதுக.

1) இருபத்தொன்பது .....

2) இருபத்துநான்கு .....

3) இருபது .....




07. தரப்பட்ட எண்ணைச் சொற்களில் எழுதுக.

1) 26 .....

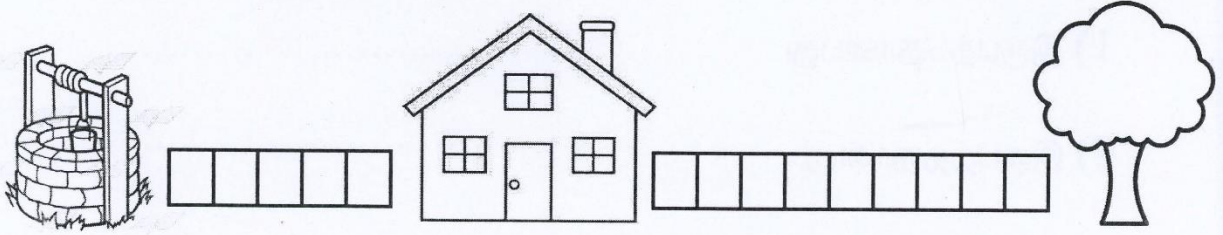
2) 19 .....

3) 25 .....

08. அட்டவணையைப் பூர்த்தி செய்க.

	பத்துக்கள்	ஒன்றுக்கள்	எண்
	1	6	.....
	.....	3	23
	2	.....	24

09. விடை தருக.




1. வீட்டிலிருந்து மரம் உள்ள தூரம் எத்தனை கட்டங்கள் ?

.....

2. வீட்டிற்கு அருகில் இருப்பது மரமா? கிணறா ?

.....

10. நிறை குறைந்த பொருள் எது?



.....